

उत्तर प्रदेश सरकार  
उत्तर प्रदेश पुलिस भर्ती एवं प्रोन्नति बोर्ड  
19 सी, तुलसी गंगा कॉम्प्लेक्स, विधानसभा मार्ग,  
लखनऊ, उत्तर प्रदेश-226001  
सूचना/विज्ञप्ति

उत्तर प्रदेश पुलिस रेडियो संवर्ग में प्रधान परिचालक/प्रधान परिचालक (यॉत्रिक) के पदों पर  
सीधी भर्ती-2022  
संशोधित अंतिम उत्तर कुंजी का प्रकाशन।

संख्या-पीआरपीबी-एक-3(39)/2023 पार्ट-4 (विज्ञप्ति)

दिनांक-जून 28, 2024

उत्तर प्रदेश पुलिस रेडियो संवर्ग में प्रधान परिचालक/प्रधान परिचालक (यॉत्रिक) के रिक्त पदों पर सीधी भर्ती-2022 के अर्न्तगत दिनांक 30.01.2024 से 31.01.2024 तक (कुल 03 पालियों में) ऑनलाइन लिखित परीक्षा आयोजित की गयी थी। अभ्यर्थियों को उनके प्रश्न पत्र एवं उनके द्वारा चिन्हित उत्तर विकल्पों एवं सम्बन्धित प्रश्न के सापेक्ष घोषित उत्तर विकल्प को अवलोकन करने तथा उसके सम्बन्ध में साक्ष्य धारित आपत्तियाँ प्रस्तुत करने हेतु अवसर प्रदान किया गया था।

2- अभ्यर्थियों द्वारा प्रस्तुत आपत्तियों पर विषय विशेषज्ञों द्वारा परीक्षण किये जाने के उपरान्त कुल 03 पालियों के 160X3=480 प्रश्नों में से 23 प्रश्नों के सम्बन्ध में आपत्तियाँ उचित पायी गयी है, जिसको सक्षम स्तर पर विचार करते हुये निम्नानुसार निर्णय लिया गया:-

i. 12 प्रश्नों/उत्तर विकल्पों के त्रुटिपूर्ण होने के कारण प्रश्नों को निरस्त किये जाने का निर्णय लिया गया है तथा निरस्त प्रश्नों के लिये आवंटित अंकों का वितरण अभ्यर्थियों को मा0 उच्च न्यायालय, इलाहाबाद में रिट याचिका संख्या-2669(एम0बी0)/2009 पवन कुमार अग्रहरि बनाम उ0प्र0 लोक सेवा आयोग में स्वीकृत व्यवस्था के अनुसार किया जायेगा। (परिशिष्ट-‘क’)

ii. 11 प्रश्नों के उत्तर विकल्पों में परिवर्तन किया गया है। (परिशिष्ट-‘ख’)

3- उपरोक्त भर्ती प्रक्रिया के अर्न्तगत निर्गत की जा रही उत्तर कुंजी अन्तिम है। इसके पश्चात इस सम्बन्ध में किसी भी प्रकार की कोई आपत्ति स्वीकार नहीं की जायेगी।

4- यद्यपि इस सूचना को वेबसाइट पर अपलोड किये जाने में पर्याप्त सावधानी बरती गयी है, फिर भी किसी प्रकार की तकनीकी/लिपिकीय त्रुटि पाये जाने पर त्रुटिपूर्ण अंकन का किसी प्रकार का लाभ या अधिकार सम्बन्धित अभ्यर्थियों को प्राप्त/अनुमन्य नहीं होगा। ऐसे किसी प्रकरण के संज्ञान में आने पर बोर्ड का निर्णय अंतिम होगा।

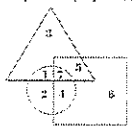
5- चयन के अग्रिम प्रकम (डीवी/पीएसटी) हेतु उपयुक्त अभ्यर्थियों की सूची तथा तिथि शीघ्र ही बोर्ड की वेबसाइट <http://uppbpb.gov.in> पर प्रकाशित की जायेगी।

संलग्नक-परिशिष्ट-‘क’ एवं परिशिष्ट-‘ख’

अपर सचिव, भर्ती  
उ0प्र0 पुलिस भर्ती एवं प्रोन्नति बोर्ड,  
लखनऊ।

**परिशिष्ट-क (Head Operator)**  
**निरस्त प्रश्नों का विवरण**

S. No	EXAM DATE	SHIFT	QUESTION	OPTION-A	OPTION-B	OPTION-C	OPTION-D	Earlier Declared Correct Option	Final Correct Option																																																																																				
1	30-01-2024	3:00PM	<p>Study the following table and answer the question given below it. The following table represents the number of employees (in hundreds) worked in an ITI over IT responses over the given years.</p> <table border="1"> <thead> <tr> <th>Year</th> <th>2014</th> <th>2015</th> <th>2016</th> <th>2017</th> <th>2018</th> </tr> </thead> <tbody> <tr> <td>IBM</td> <td>110</td> <td>80</td> <td>140</td> <td>210</td> <td>175</td> </tr> <tr> <td>Infosys</td> <td>120</td> <td>80</td> <td>130</td> <td>195</td> <td>160</td> </tr> <tr> <td>Wipro</td> <td>150</td> <td>70</td> <td>120</td> <td>185</td> <td>195</td> </tr> <tr> <td>TCS</td> <td>180</td> <td>65</td> <td>118</td> <td>165</td> <td>185</td> </tr> <tr> <td>Tech Mahindra</td> <td>450</td> <td>87</td> <td>142</td> <td>175</td> <td>123</td> </tr> <tr> <td>Infotech</td> <td>420</td> <td>76</td> <td>193</td> <td>180</td> <td>112</td> </tr> </tbody> </table> <p>What is the average number of employees (in hundreds) worked in the year 2018 approximately?</p> <p>निम्नलिखित तालिका का अध्ययन करें और उसके नीचे दिए गए प्रश्न का उत्तर दें। निम्नलिखित तालिका दिए गए वर्षों में एक आईटी-सीआर आईटी कर्मियों में काम करने वाले कर्मचारियों की संख्या (सैकड़ों में) दर्शाती है।</p> <table border="1"> <thead> <tr> <th>वर्ष</th> <th>2014</th> <th>2015</th> <th>2016</th> <th>2017</th> <th>2018</th> </tr> </thead> <tbody> <tr> <td>IBM</td> <td>110</td> <td>80</td> <td>140</td> <td>210</td> <td>175</td> </tr> <tr> <td>इंफोसिस</td> <td>120</td> <td>80</td> <td>130</td> <td>195</td> <td>160</td> </tr> <tr> <td>विप्रो</td> <td>150</td> <td>70</td> <td>120</td> <td>185</td> <td>195</td> </tr> <tr> <td>TCS</td> <td>180</td> <td>65</td> <td>118</td> <td>165</td> <td>185</td> </tr> <tr> <td>टेक माहिंद्रा</td> <td>450</td> <td>87</td> <td>142</td> <td>175</td> <td>123</td> </tr> <tr> <td>इंफोटेक</td> <td>420</td> <td>76</td> <td>193</td> <td>180</td> <td>112</td> </tr> </tbody> </table> <p>वर्ष 2018 में कर्मों का औसत संख्या (सैकड़ों में) लगभग कितना है?</p>	Year	2014	2015	2016	2017	2018	IBM	110	80	140	210	175	Infosys	120	80	130	195	160	Wipro	150	70	120	185	195	TCS	180	65	118	165	185	Tech Mahindra	450	87	142	175	123	Infotech	420	76	193	180	112	वर्ष	2014	2015	2016	2017	2018	IBM	110	80	140	210	175	इंफोसिस	120	80	130	195	160	विप्रो	150	70	120	185	195	TCS	180	65	118	165	185	टेक माहिंद्रा	450	87	142	175	123	इंफोटेक	420	76	193	180	112	75 75	78 78	44 44	84 84	A	CANCELLED
Year	2014	2015	2016	2017	2018																																																																																								
IBM	110	80	140	210	175																																																																																								
Infosys	120	80	130	195	160																																																																																								
Wipro	150	70	120	185	195																																																																																								
TCS	180	65	118	165	185																																																																																								
Tech Mahindra	450	87	142	175	123																																																																																								
Infotech	420	76	193	180	112																																																																																								
वर्ष	2014	2015	2016	2017	2018																																																																																								
IBM	110	80	140	210	175																																																																																								
इंफोसिस	120	80	130	195	160																																																																																								
विप्रो	150	70	120	185	195																																																																																								
TCS	180	65	118	165	185																																																																																								
टेक माहिंद्रा	450	87	142	175	123																																																																																								
इंफोटेक	420	76	193	180	112																																																																																								
2	30-01-2024	3:00PM	A shopkeeper usually allows a discount of 20% to his customers and still gains 30%. Find the marked price of an article which costs Rs.750 to the shopkeeper.	Rs.1682.50	Rs.1392.86	Rs.1400.75	Rs.1504.20	B	CANCELLED																																																																																				
3	30-01-2024	3:00PM	<p>In the word 'DISCOVER' if all the vowels are replaced with the letter immediate next to it in the english alphabet series and all the consonants are replaced with the letter immediate before it in the english alphabet series, then how many vowels are there in the new word so formed?</p> <p>'DISCOVER' शब्द में यदि सभी स्वरों को अंग्रेजी वर्णमाला श्रृंखला में उसके ठीक पहले वाले अक्षर से बदल दिया जाए और सभी व्यंजनों को अंग्रेजी वर्णमाला श्रृंखला में उसके ठीक पहले वाले अक्षर से बदल दिया जाए, तो इस प्रकार बने नए शब्द में कितने स्वार होंगे?</p>	1 1	2 2	3 3	4 4	A	CANCELLED																																																																																				

S. No	EXAM DATE	SHIFT	QUESTION	OPTION-A	OPTION-B	OPTION-C	OPTION-D	Earlier Declared Correct Option	Final Correct Option
4	30-01-2024	3:00PM	निम्नलिखित वाक्यों को कर्मवाच्य से कर्तृवाच्य में बदलिए। उस बेचारी से रोया भी नहीं जाता।	उस बेचारी से रोया जाता है।	वह बेचारी रो भी नहीं सकती।	वह बेचारी रोती है।	वह रोती रहेगी।	B	CANCELLED
5	31-01-2024	10:00AM	निम्न अनुच्छेद को पढ़कर दिए गए प्रश्न के उत्तर विकल्पों में से चुनकर दीजिए। जानवरों में गधा सबसे ज्यादा बुद्धिहीन समझा जाता है। हम जब किसी आदमी को पहले दर्जे का बेवकूफ कहना चाहते हैं, तो उसे गधा कहते हैं। गधा सचमुच बेवकूफ है या उसके सीधेपन, उसकी निरापद सहिष्णुता ने उसे यह पदवी दे दी है, इसका निश्चय नहीं किया जा सकता। गायें सींग मारती हैं, ब्याई हुई गाय तो अनायास ही सिंहनी का रूप धारण कर लेती है। कुत्ता भी बहुत गरीब जानवर है, लेकिन कभी-कभी उसे भी क्रोध आ ही जाता है; किंतु गधे को कभी क्रोध करते नहीं सुना, न देखा। जितना चाहो उस गरीब गधे को मारो, चाहे जितनी खराब, सड़ी हुई घास सामने डाल दो, उसके चेहरे पर कभी असंतोष की छाया भी न दिखाई देगी। निरापद सहिष्णुता से क्या अभिप्राय है?	बुद्धिहीन व्यक्ति की सहनशीलता	बुद्धिमान व्यक्ति की सहनशीलता	किसी को विपदा में डालने वाली सहनशीलता	किसी को विपदा में न डालने वाली सहनशीलता	A	CANCELLED
6	31-01-2024	10:00AM	In the given figure, the circle represents people who visited Bhopal, triangle represents people who visited Kochi, and square represents people who visited Patna. Which region represents people who visited both Bhopal and Kochi? 	2	5	1	4	C	CANCELLED
7	31-01-2024	10:00AM	Calculate the net force acting on a body of mass 10 kg moving with a uniform velocity of 5m/sec <sup>2</sup> ?	50 N	1/5 N	0 N	250 N	C	CANCELLED
8	31-01-2024	3:00PM	हिन्दी के प्रथम जीवनी लेखक कौन हैं?	मोरारजी देसाई	हरिवंशराय बच्चन	बाबू गुलाबराय	बनारसीदास जैन	D	CANCELLED
9	31-01-2024	3:00PM	निम्न शब्दों में से शुद्ध वर्तनी चुनिए। गुंगा	गुंगा	गुंग	गुंघा	गुंघ	A	CANCELLED

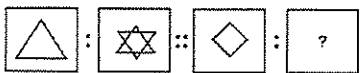
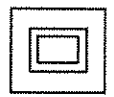



S. No	EXAM DATE	SHIFT	QUESTION	OPTION-A	OPTION-B	OPTION-C	OPTION-D	Earlier Declared Correct Option	Final Correct Option
10	31-01-2024	3:00PM	(λ) कोष्ठक में किया गया चिह्न किसका है?	योजक चिह्न	लाघव चिह्न	निर्देशक चिह्न	हंसपद चिह्न	D	CANCELLED
11	31-01-2024	3:00PM	In which of the following States has India's longest river bridge been built? भारत की सबसे लंबी नदी पर स्थित पुल किस राज्य में बनाया गया था?	Goa गोवा	Assam असम	Karnataka कर्नाटक	Tamilnadu तमिलनाडु	B	CANCELLED
12	31-01-2024	3:00PM	A torque of 10 Nm is applied to a flywheel of mass 10 kg and radius of gyration 50 cm. The resulting angular acceleration is-	23 rad <sup>-2</sup>	2 rad <sup>-2</sup>	4 rad <sup>-2</sup>	13 rad <sup>-2</sup>	C	CANCELLED



**परिशिष्ट-ख (Head Operator)**  
परिवर्तित विकल्प वाले प्रश्नों का विवरण

S. No	EXAM DATE	SHIFT	QUESTION	OPTION-A	OPTION-B	OPTION-C	OPTION-D	Earlier Declared Correct Option	Final Correct Option
1	30-01-2024	3:00PM	In _____, the flow of electricity takes place without the decomposition of substances.	Electronic conductors	Semiconductors	Electrolytic conductors	None of the options	C	A
2	30-01-2024	3:00PM	Find the ODD one out from the given options.	21	31	41	61	A	BOTH A AND B
3	31-01-2024	10:00AM	The _____ is often employed as a secondary standard reference electrode.	Standard Hydrogen Electrode (SHE)	Calomel electrode	Ag/AgCl electrode	Quinhydrone electrode	B	BOTH B AND C
4	31-01-2024	10:00AM	The average weight of 5 men is decreased by 3 kg when one of them weighing 150 kg is replaced by another person. This new person is again replaced by another person whose weight is 30 kg lower than the person he replaced. What is the overall change in the average due to this dual change?	6 kg	9 kg	12 kg	15 kg	A	B
5	31-01-2024	10:00AM	Complete the series. 165, 195, 255, 285, 345, (...)	375	420	435	390	A	BOTH A AND C
6	31-01-2024	10:00AM	Find the ODD one out from the given options.	Japan	India	Singapore	Taiwan	B	BOTH B AND D
7	31-01-2024	10:00AM	Which number will best complete the relationship given below? 14 : ? :: 26 : 15	12	13	9	31	C	BOTH A AND C
8	31-01-2024	3:00PM	Find the ODD one out from the given options.	Mangaluru	Kochi	Thiruvananthapuram	Mysuru	D	BOTH C AND D



S. No	EXAM DATE	SHIFT	QUESTION	OPTION-A	OPTION-B	OPTION-C	OPTION-D	Earlier Declared Correct Option	Final Correct Option
9	31-01-2024	3:00PM	Which number will best complete the relationship given below? 25 : ? :: 49 : 65	37	40	36	35	A	BOTH A AND D
10	31-01-2024	3:00PM	Find the ODD one out from the given options.	LQO	PUS	TYW	ORT	D	BOTH C AND D
11	31-01-2024	3:00PM	<p>Select a suitable figure from the Answer Figures that would replace the question mark (?).</p> 					C	D

*Signature*